



**МИНИСТЕРСТВО ОБРАЗОВАНИЯ ИРКУТСКОЙ ОБЛАСТИ  
ГОСУДАРСТВЕННОЕ АВТОНОМНОЕ ПРОФЕССИОНАЛЬНОЕ  
ОБРАЗОВАТЕЛЬНОЕ УЧРЕЖДЕНИЕ ИРКУТСКОЙ ОБЛАСТИ  
«АНГАРСКИЙ ИНДУСТРИАЛЬНЫЙ ТЕХНИКУМ»**

---

Дисциплинарно-цикловая комиссия естественно-математического цикла

**Комплект контрольно-оценочных средств по учебной дисциплине**

**ГЕОГРАФИЯ**  
**образовательной программы среднего профессионального образования (ОПСПО) по**  
**профессии**  
**23.01.08 Слесарь по ремонту строительных машин**

Ангарск, 2019г.

Разработчик: Кучукова Алена Александровна, преподаватель высшей квалификационной категории

Комплект контрольно-оценочных средств по учебной дисциплине «География»  
ОПСПО по профессии 23.01.08 Слесарь по ремонту строительных машин  
рассмотрен и одобрен на заседании ДЦК естественно-математического цикла  
Протокол заседания ДЦК №\_\_ от «\_\_»\_\_\_\_\_2019 г  
Председатель ДЦК\_\_\_\_\_ Степанова Т.Г.  
Подпись

## 1. Паспорт комплекта контрольно-оценочных средств

Контрольно-оценочные средства (КОС) предназначены для контроля и оценки образовательных достижений обучающихся, освоивших программу учебной дисциплины «География».

КОС включают контрольные материалы для проведения текущего контроля и промежуточной аттестации в форме дифференцированного зачета.

КОС разработаны в соответствии с:

- ОПСПО по профессии 23.01.08 Слесарь по ремонту строительных машин;
- рабочей программой учебной дисциплины «География».

## 2. Результаты освоения учебной дисциплины, подлежащие проверке

2.1. В результате аттестации по учебной дисциплине осуществляется комплексная проверка следующих предметных результатов:

Таблица 1

Предметные результаты обучения	Форма контроля и оценивания
ПР1. владение умениями проведения наблюдений за отдельными географическими объектами, процессами и явлениями, их изменениями в результате природных и антропогенных воздействий;	Оценивание выполнения практических работ, индивидуальный устный опрос, работа с атласом.
ПР2. владение умениями использовать карты разного содержания для выявления закономерностей и тенденций, получения нового географического знания о природных социально-экономических и экологических процессах и явлениях;	Оценивание выполнения практических работ, индивидуальный устный опрос, работа с атласом.
ПР3. владение умениями географического анализа и интерпретации разнообразной информации;	Работа с атласом и контурными картами.
ПР4. владение умениями применять географические знания для объяснения и оценки разнообразных явлений и процессов, самостоятельного оценивания уровня безопасности окружающей среды, адаптации к изменению её условий;	Индивидуальный устный опрос, тестирование, работа с атласом.
ПР5. владение географическим мышлением для определения географических аспектов природных, социально-экономических и экологических процессов и проблем;	Индивидуальный устный опрос, тестирование, работа с атласом.
ПР6. владение представлениями о современной географической науке, её участии в решении важнейших проблем человечества;	Индивидуальный устный опрос, письменные ответы на вопросы, работа с атласом..
ПР7. сформированность системы комплексных социально ориентированных географических знаний о закономерностях развития природы, размещения населения и хозяйства, о динамике и территориальных особенностях процессов, протекающих в географическом пространстве;	Оценивание выполнения практических работ, письменные ответы на вопросы, индивидуальный устный опрос, работа с атласом.
ПР8. сформированность представлений и знаний об основных проблемах взаимодействия природы и общества, о природных и социально-экономических аспектах экологических проблем.	Оценивание выполнения практических работ, индивидуальный устный опрос, работа с атласом.

### 3. Распределение оценивания результатов обучения по видам контроля

Наименование элемента умений или знаний	Виды аттестации	
	Текущий контроль	Промежуточная аттестация
ПР1.	+	+
ПР2.	+	+
ПР3.	+	+
ПР4.	+	+
ПР5.	+	+
ПР6.	+	+
ПР7.	+	+
ПР8.	+	+

### 4. Распределение типов контрольных заданий по элементам предметных результатов

Содержание учебного материала по программе учебной дисциплины	Тип контрольного задания							
	ПР1	ПР2	ПР3	ПР4	ПР5	ПР6	ПР7	ПР8
<b>Раздел I. Общая характеристика мира</b>								
Тема 1.1. Политическое устройство мира		6.1.1 Вопр.1	6.1.1 Вопр.4 ПЗ2	6.1.1 Вопр.3,6, 7		6.1.1 Вопр.2,5	6.1.1 Вопр.8,9	
Тема 1.2. География мировых природных ресурсов	6.1.2 Вопр.6	ПЗ3			6.1.2 Вопр.1	6.1.2 Вопр.4	6.1.2 Вопр.2	6.1.42 Вопр.3, 5
Тема 1.3. География населения мира	6.1.3 Вопр.4, 11, 12 ПЗ4		6.1.3 Вопр.5, 10	6.1.3 Вопр.8	6.1.3 Вопр.1,7	6.1.3 Вопр.2, 6, 9	6.1.3 Вопр.3, 10	
Тема 1.4.1. Современные особенности развития мирового хозяйства	6.1.4 Вопр.4 Зад.1		6.1.4 Вопр.4, 5	6.1.4 Вопр.1,2			6.1.4 Вопр.3, 5	
Тема 1.4.2. География отраслей первичной сферы мирового хозяйства	6.1.5 Вопр.2,9, 12	6.1.5 Вопр.5,6 , 10, 13	6.1.5 Вопр.1		6.1.5 Вопр.7	6.1.5 Вопр.4,8 , 11	6.1.5 Вопр.3	
Тема 1.4.3. География отраслей вторичной сферы мирового хозяйства	6.1.6 Вопр.1,3,4,8 , 11, 12	6.1.6 Вопр.9, 14, 16	6.1.19 Вопр.1 3	6.1.6 Вопр.5,7	6.1.6 Вопр.6	6.1.6 Вопр.10, 15	6.1.6 Вопр.1,2 , 17	
Тема 1.4.4. География отраслей третичной		6.1.7 Зад.1 ПЗ5					6.1.7 Зад.2	

Содержание учебного материала по программе учебной дисциплины	Тип контрольного задания							
	ПР1	ПР2	ПР3	ПР4	ПР5	ПР6	ПР7	ПР8
сферы мирового хозяйства								
<b>Раздел II. Региональная характеристика мира</b>								
Тема 2.1. География населения и хозяйства Зарубежной Европы	6.1.8 Вопр.4	6.1.8 Зад.1,2,3	6.1.8 Вопр.2 ПЗ7				6.1.8 Вопр.1,5 ПЗ6	
Тема 2.2. География населения и хозяйства Зарубежной Азии		6.1.9 Вопр.1,4	ПЗ8	6.1.9 Вопр.3	6.1.9 Вопр.5		6.1.9 Вопр.2	6.1.9 Вопр.6
Тема 2.3. География населения и хозяйства Африки	6.1.10 Зад.1	6.1.10 Зад.2,3					ПЗ9	
Тема 2.4. География населения и хозяйства Северной Америки		ПЗ10	6.1.11 Зад.3			6.1.11 Зад.2	6.1.11 Зад.1	
Тема 2.5. География населения и хозяйства Латинской Америки		6.1.12 Зад.1,3	ПЗ12				6.1.12 Зад.2 ПЗ11	
Тема 2.6. География населения и хозяйства Австралии и Океании	6.1.13 Вопр.1	6.1.13 Вопр.6					6.1.13 Вопр.2	
<b>Раздел III. Россия в современном мире</b>								
Тема 3.1. Россия в современном мире		6.1.14 Вопр.1	6.1.14 Вопр.3				6.1.14 Вопр.2 ПЗ13	
<b>Раздел IV. Географические аспекты современных глобальных проблем человечества</b>								
Тема 4.1. Географические аспекты современных	6.1.15 Вопр.3	6.1.15 Вопр.5			6.1.15 Вопр.4		6.1.15 Вопр.3	

Содержание учебного материала по программе учебной дисциплины	Тип контрольного задания							
	ПР1	ПР2	ПР3	ПР4	ПР5	ПР6	ПР7	ПР8
глобальных проблем человечества								

### 5. Распределение типов и количества контрольных заданий по элементам предметных результатов, контролируемых на промежуточной аттестации

Содержание учебного материала по программе учебной дисциплины	Тип контрольного задания							
	ПР1	ПР2	ПР3	ПР4	ПР5	ПР6	ПР7	ПР8
<b>Раздел I. Общая характеристика мира</b>								
Тема 1.1. Политическое устройство мира	Вар.1 №1 Вар.2 №1	Вар.2 №3	Вар.1 №49			Вар.1 №2	Вар.1 №4	
Тема 1.2. География мировых природных ресурсов	Вар.1 №8,10	Вар.2 №7					Вар.1 №7	
Тема 1.3. География населения мира	Вар.1 №13	Вар.2 №15	Вар.2 №13, 14	Вар.1 №14	Вар.1 №17		Вар.1 №16	
Тема 1.4.1. Современные особенности развития мирового хозяйства	Вар.1 №37							
Тема 1.4.2. География отраслей первичной сферы мирового хозяйства	Вар.2 №38	Вар.1 №21	Вар.1 №18,19	Вар.1 №20			Вар.1 №22	
Тема 1.4.3. География отраслей вторичной сферы мирового хозяйства	Вар.1 №24 Вар.2 №10, 28	Вар.1 №20, 50	Вар.1 №25,45		Вар.1 №47		Вар.2 №20, 25, 29	
Тема 1.4.4. География отраслей третичной сферы мирового хозяйства		Вар.1 №33						
<b>Раздел II. Региональная характеристика мира</b>								
Тема 2.1. География населения и хозяйства Зарубежной Европы	Вар.1 №31	Вар.1 №51	Вар.1 №34					Вар.2 №35
Тема 2.2. География населения и хозяйства Зарубежной Азии		Вар.2 №38			Вар.1 №41		Вар.1 №36	
Тема 2.3. География населения и хозяйства Африки			Вар.2 №23					

Содержание учебного материала по программе учебной дисциплины	Тип контрольного задания							
	ПР1	ПР2	ПР3	ПР4	ПР5	ПР6	ПР7	ПР8
Тема 2.4. География населения и хозяйства Северной Америки					Вар.2 №29			
Тема 2.5. География населения и хозяйства Латинской Америки			Вар.1 №42					
Тема 2.6. География населения и хозяйства Австралии и Океании			Вар.2 №41				Вар.1 №10	
<b>Раздел III. Россия в современном мире</b>								
Тема 3.1. Россия в современном мире	Вар.1 №44							Вар.1 №43
<b>Раздел IV. Географические аспекты современных глобальных проблем человечества</b>								
Тема 4.1. Географические аспекты современных глобальных проблем человечества	Вар.2 №49							

## **6. Структура контрольного задания**

### **Текущий контроль ( типовые задания)**

#### **6.1.1. Контрольные вопросы по теме 1.1. Политическое устройство мира**

1. В чем заключается многоликость современного мира?
2. Дайте краткую характеристику древнему и средневековому периоду формирования политической карт мира.
3. В чем заключаются качественные и количественные сдвиги на политической карте мира?
4. Дайте краткую характеристику республиканской форме правления. Приведите примеры стран.
5. Дайте краткую характеристику монархической форме правления. Приведите примеры стран.
6. Назовите черты отличия унитарного и федеративного государств.
7. Дайте краткую характеристику развитым странам. Приведите примеры.
8. Дайте краткую характеристику странам с переходной экономикой. Приведите примеры.
9. Опишите главный критерий типологии стран.

#### **6.1.2. Контрольные вопросы по теме 1.2. География мировых природных ресурсов**

1. Оцените роль природных ресурсов в жизни общества.
2. Что такое географическая среда?
3. Опишите экологические проблемы, связанные с добычей природных ресурсов.
4. Охарактеризуйте проблему истощения минеральных ресурсов и пути ее решения.
5. Какие экологические проблемы возникают при нерациональном использовании земельных ресурсов?
6. Опишите пути преодоления дефицита пресной воды.

#### **6.1.3. Контрольные вопросы по теме 1.3. География населения мира**

1. В чем сущность теории демографического перехода?
2. Опишите демографическую политику в КНР, Индии и Франции.
3. Дайте краткую характеристику типам воспроизводства населения.
4. В чем заключается главное отличие возрастной структуры населения развитых и развивающихся стран?
5. Какие факты влияют на половозрастную структуру населения?
6. Опишите занятость населения развитых и развивающихся стран.
7. Что лежит в основе различий между человеческими расами?
8. Что следует понимать под этнической общностью?
9. Опишите национальные конфликты в современном мире.
10. Работа с терминами:
  - a. Агломерация – это ...
  - b. Мегалополис – это ...
  - c. Субурбанизация – это ...
11. Что такое урбанизация?
12. Опишите урбанизацию в развитых странах.
13. Опишите урбанизацию в развивающихся странах.

#### **6.1.4. Контрольные вопросы по теме 1.4.1. Современные особенности развития мирового хозяйства**

1. Дайте краткую характеристику этапам развития мировой экономики?
2. Опишите особенности научно-технического прогресса.
3. Что такое МГРТ?
4. Выпишите номера верных утверждений:
  - 1) робототехника является одной из новейших наукоемких отраслей НТР;
  - 2) мировое хозяйство сложилось на рубеже XVIII и XIX вв.;



- 3) Латиноамериканская ассоциация интеграции объединяет 11 стран региона;  
 4) идея технополисов зародилась в Японии в начале 80-х гг.  
 5. Установите соответствие:

Понятие	Определение
1) Региональная политика	А. Международная компания, в рамках которой объединяются многочисленные предприятия одной или нескольких отраслей мирового хозяйства, расположенные в разных странах.
2) Транснациональная корпорация	Б. Агломерация наукоемких фирм, группирующаяся вокруг крупного университета, института, лаборатории.
3) Технопарк	В. Комплекс законодательных, административных, экономических и природоохранных мероприятий, способствующих еще более рациональному размещению производительных сил и выравниванию уровней жизни людей.
	Г. Специализация отдельных стран на производстве определенных видов продукции и услуг и последующем обмене ими.
	Д. Коренной качественный переворот в производительных силах человечества, основанный на превращении науки в непосредственную производственную силу общества.

6. Выпишите номера верных утверждений:

- 1) отраслью международной специализации Японии является угольная промышленность;
- 2) на размещение отраслей добывающей промышленности большое воздействие оказывает природно-ресурсный фактор;
- 3) в Североамериканскую ассоциацию свободной торговли (НАФТА) входят США, Куба и Канада.
- 4) по классификации ООН современная промышленность включает уже более 300 отраслей и подотраслей.
7. Что такое мировое хозяйство?
8. Опишите структуру мирового хозяйства.
9. Охарактеризуйте место РФ в мировом хозяйстве?

#### **6.1.5. Контрольные вопросы по теме 1.4.2. География отраслей первичной сферы мирового хозяйства**

1. Охарактеризуйте внутриотраслевую структуру сельского хозяйства.
2. Дайте краткую характеристику земледелию.
3. Опишите животноводство.
4. Что такое «зеленая революция»?
5. Охарактеризуйте северный лесной пояс.
6. Дайте краткую характеристику южному лесному поясу.
7. Перечислите страны-лидеры по лесозаготовке.
8. Что такое мировой сырьевой кризис?
9. Охарактеризуйте «великие горнодобывающие державы».
10. Опишите главные «железородные мосты».

#### **6.1.6. Контрольные вопросы по теме 1.4.3. География отраслей вторичной сферы мирового хозяйства**

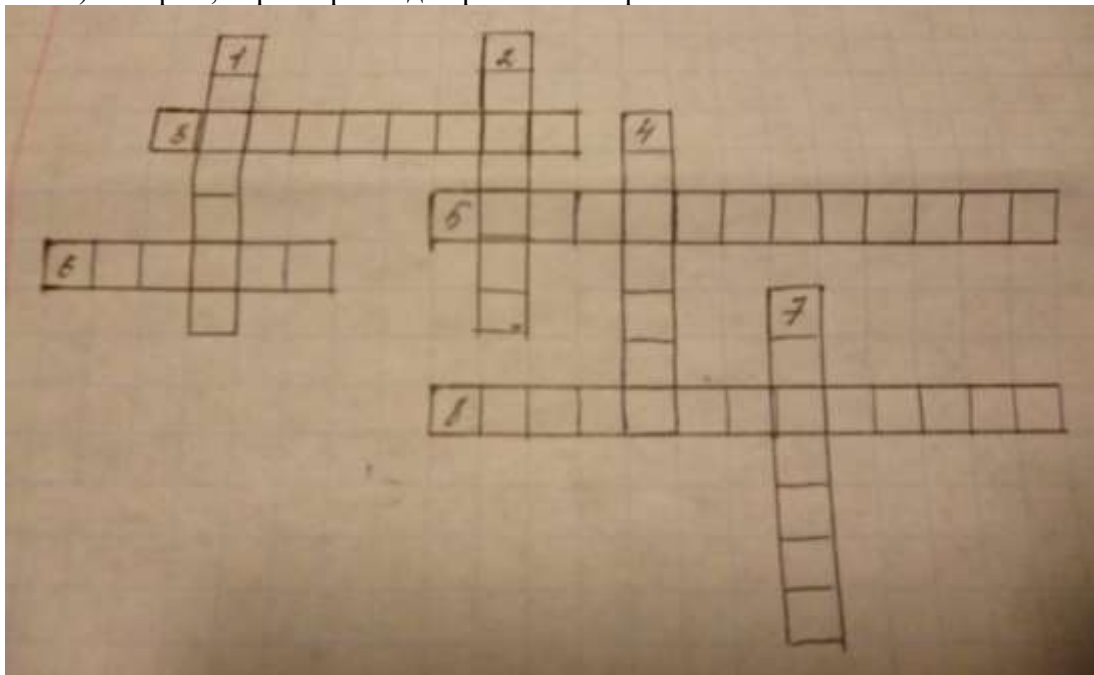
1. Какие отрасли производственной и непроизводственной сфер, по-вашему, являются крупнейшими потребителями энергетических ресурсов?
2. Охарактеризуйте нефтяную промышленность.
3. Опишите электроэнергетику.
4. Дайте краткую характеристику черной металлургии.
5. Охарактеризуйте цветную металлургию.

6. Перечислите факторы размещения цветной металлургии.
7. Дайте краткую характеристику внутриотраслевой структуре машиностроения.
8. Охарактеризуйте автомобилестроение.
9. Почему многие отрасли машиностроения требуют кооперации?
10. Перечислите главные регионы химической промышленности.
11. Опишите влияние энергетического кризиса на химическую промышленность.
12. Назовите номенклатуру товаров химической промышленности.
13. Опишите целлюлозно-бумажную промышленность.
14. Дайте краткую характеристику лесохимии.
15. Назовите мировые центры лесной промышленности.
16. Опишите ведущую отрасль легкой промышленности.
17. Перечислите 5 главных регионов текстильной промышленности.
18. Сравните текстильную промышленность стран Севера и Юга.

#### 6.1.7. Контрольные вопросы по теме 1.4.4. География отраслей третичной сферы мирового хозяйства

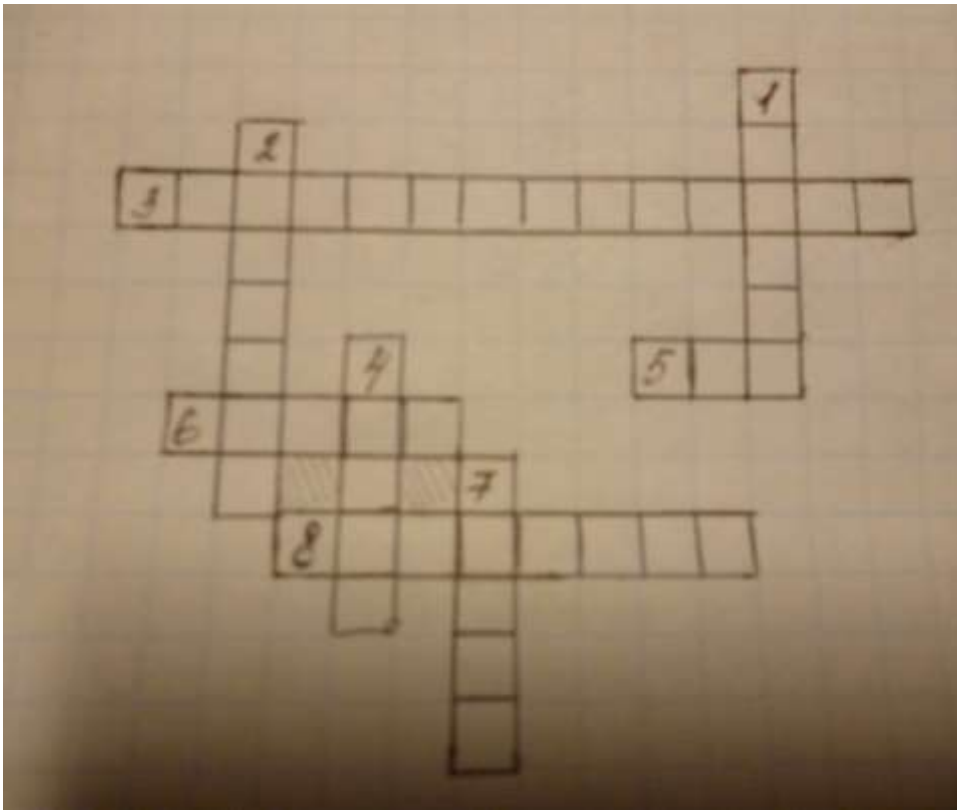
1. Кроссворд по теме «Транспорт».

- 1) Транспорт, обслуживающий около 4/5 всей международной торговли.
- 2) Транспортная система, образованная совокупностью транспортных средств, транспортных предприятий и путей сообщения.
- 3) Третья ведущая отрасль материального производства.
- 4) «Загрязнение», созданное всеми видами транспорта.
- 5) Транспорт – главный загрязнитель атмосферы.
- 6) Регион, выделяющийся по густоте сети железных дорог.
- 7) Начальный пункт Азиатско-Тихоокеанской магистрали.
- 8) Порты, характерные для развитых стран.



2. Кроссворд по теме «Транспорт»

- 1) Страна, под флагами которой плавают суда США, Японии и Греции.
- 2) Канал, сокращающий путь между портами Европы и Азии.
- 3) Транспорт, получивший развитие благодаря росту добычи нефти и газа.
- 4) На каждую 1000 жителей этой страны приходится 5 легковых автомобилей.
- 5) Страна, обладающая наибольшей длиной железных дорог.
- 6) Океан, занимающий 2 место по размерам морских перевозок.
- 7) Конечный пункт Великого шелкового пути.
- 8) Другое название сухопутного транспорта.



### 6.1.8. Контрольные вопросы по теме 2.1. География населения и хозяйства Зарубежной Европы

1. Установите соответствие:

Государства	Столицы
1. Великобритания	1) Варшава
2. Польша	2) Париж
3. Швеция	3) Прага
4. Чехия	4) Лондон
5. Франция	5) Стокгольм

2. Установите соответствие:

Государства	Столицы
1. Греция	1) Берлин
2. Дания	2) Берн
3. Швейцария	3) Таллинн
4. ФРГ	4) Копенгаген
5. Эстония	5) Афины

- Охарактеризуйте промышленность Западной Европы.
- Опишите население Восточной Европы.
- Опишите географическое положение Великобритании.
- Перечислите крупные территории Великобритании.
- Охарактеризуйте промышленность Великобритании.

### 6.1.9. Контрольные вопросы по теме 2.2. География населения и хозяйства Зарубежной Азии

- Опишите природные ресурсы Зарубежной Азии.
- Дайте краткую характеристику населению Зарубежной Азии.
- Охарактеризуйте хозяйство региона.
- Опишите географическое положение КНР.
- Какую демографическую политику ведет страна?
- Охарактеризуйте промышленность КНР.

### 6.1.10. Контрольные вопросы по теме 2.3. География населения и хозяйства Африки

- Выпишите правильные утверждения:

- А. Большинство стран Африки добились независимости во второй половине XX в.  
 Б. Для стран Африки характерны высокие темпы урбанизации.  
 В. Две страны Африки сохраняют монархическую форму правления.  
 Г. Конфликт между племенами тутси и хуту возник в 2000 г.

2. Определите страны, к которым относятся следующие утверждения:

А. Страна, расположенная на острове площадью 600 тыс. км.<sup>2</sup>.

Б. Страны, находящиеся «внутри» территории ЮАР.

В. Самая крупная по территории страна Африки.

3. Установите соответствие:

Государства	Столицы
1. Сенегал	1) Бамако
2. Мали	2) Претория
3. ЮАР	3) Дакар
4. Марокко	4) Абуджа
5. Чад	5) Рабат
6. Нигерия	6) Нджамена

### 6.1.11. Контрольные вопросы по теме 2.4. География населения и хозяйства Северной Америки

1. Установите соответствие между страной и особенностью

Страна	Особенность
А. США Б. Канада	1. Столица страны – Оттава
	2. На флаге изображен лист клёна
	3. Столица автомобилестроения – Детройт
	4. Специфика страны – большое развитие трубопроводного транспорта
	5. Страна занимает второе место в мире по площади территории
	6. Федеративная республика, состоящая из 50 штатов и федерального округа
	7. Крупнейшие монополии страны «Дженерал моторс» и «Форд»
	8. Стране занимает первое место в мире по запасам каменного и бурого угля
	9. Третье место в мире по численности населения (285,9 млн. чел)
	10. Высокоурбанизированная стран: в городах проживает 76% ее жителей

2. Заполните пропуски в следующих фразах:

А. Экономической столицей США считается ..., но с ним все более конкурирует ....

Б. К числу важных сельскохозяйственных культур Юга США относится ....

В. Большая часть территории Среднего Запада выходит к ... и ..., двум главным водным артериям Северной Америки.

Г. В канадской провинции ... большинство жителей говорит по-французски.

3. Выпишите номера верных утверждений:

А. Мегалополис «Босваш» - самая большая урбанизированная зона в США.

Б. В последнее время Аляска стала важным районом добычи нефти в США.

В. В США и Канаде господствует фермерский тип сельского хозяйства.

Г. Транспортная система США относится к тому же типу, что и транспортная система зарубежной Европы.

Д. Река Св. Лаврентия соединяет Великие озера с Нью-Йорком.

Е. В Атланте находится крупнейший аэропорт мира.

Ж. Население Канады составляет 1/2 от населения США.

### 6.1.12. Контрольные вопросы по теме 2.5. География населения и хозяйства Латинской Америки

1. Установите соответствие:

Государство	Столица
1. Венесуэла	1) Сантьяго
2. Гаити	2) Тегусигальпа
3. Ямайка	3) Каракас
4. Чили	4) Мехико
5. Аргентина	5) Монтевидео
6. Мексика	6) Порт-о-Пренс
7. Гондурас	7) Буэнос-Айрес

8. Уругвай	8) Кингстон
------------	-------------

2. Назовите страны, к которым относятся следующие утверждения:

А. Единственная страна Латинской Америки, не имеющая выхода к Карибскому морю.

Б. Страна, где 4/5 населения живет на высоте 3 тыс. м над уровнем моря.

А. Единственная страна субрегиона Анд, не имеющая выхода к морю.


Б. Страна, в которой на португальском языке говорит в 17 раз больше людей, чем в Португалии.

3. Установите соответствие:

Государство	Столица
1. Сальвадор	1) Кито
2. Перу	2) Санто-Доминго
3. Парагвай	3) Манагуа
4. Доминиканская Республика	4) Сан-Сальвадор
5. Боливия	5) Санте-Фе-Богота
6. Эквадор	6) Лима
7. Колумбия	7) Асунсьон
8. Никарагуа	8) Сукре (Ла-Пас)

### 6.1.13. Контрольные вопросы по теме 2.6. География населения и хозяйства Австралии и Океании

1. Кроссворд «Австралии и Океании»



1) → Промышленность – отрасль специализации Австралийского Союза.

↓ Первооткрыватели «Неведомой Южной земли».

2) Единственная страна в мире, занимающая целый материк.

3) Столица Австралийского союза.

4) Число штатов в Австралии.

5) Коренные жители страны.

6) Административный центр штата Виктория.

7) Животные, по поголовью которых страна занимает 2 место в мире.

2. Кроссворд «Австралии и Океании»


1) Народ, начавший освоение Австралии в конце XVIII в.

2) Лихорадка, ускорившая заселение и освоение материка.

3) Административный центр штата Новый Южный Уэльс.

4) Самоуправляющееся государство в составе бывшей Британской империи.

- 5) Полезное ископаемое, открытое в Австралии в 1969 г.
- 6) Крупный остров, входящий в состав Австралийского союза.
- 7) В каком городе установлен памятник овце?
- 8) Королева этой страны является официально главой Австралийского союза.



#### 6.1.14. Контрольные вопросы по теме 3.1. Россия в современном мире

1. Опишите географическое положение России.
2. Дайте краткую характеристику населению РФ.
3. Охарактеризуйте роль России в МГРТ.

#### 6.1.15. Контрольные вопросы по теме 4.1. Географические аспекты современных глобальных проблем человечества

1. Вставьте пропущенные слова.
  - 1) «Золотой   1  » - так называют жителей высокоразвитых постиндустриальных стран Запада, общая численность населения которых приближается к   2  .
  - 2) Последние десятилетия   3   века поставили перед народами мира много острых и сложных проблем, которые получили название   4  .
  - 3) В   5   году премьер-министр   6   Индира Ганди назвала   7   самым страшным загрязнителем окружающей среды.
  - 4) Только в течении XX века площадь орошаемых земель   8   с   9   до   10   млн га.
  - 5) Мировой океан занимает   11   % поверхности Земли.
2. Вставьте пропущенные слова.
  - 1) Число глобальных проблем варьирует от   1   до   2  .
  - 2) В конце   3   века на первый план выдвинулись   4   и   5   проблемы.
  - 3) В результате аварии на Чернобыльской АЭС в   6   году от радиоактивного заражения пострадали   7   областей бывшего СССР.

- 4) Ученые считают, что медицинская норма калорийности должна быть не менее 8 ккал и 9 г белка в сутки.
- 5) Из-за таяния ледников Антарктиды и 10 уровень Мирового океана поднимется на 11 м.

Ответы:

1. 1972;
2. 70-100;
3. 270;
4. нищету;
5. миллиард;
6. 20;
7. экологические;
8. 1986;
9. увеличилась;
10. 40;
11. 2300-2600;
12. Гренландии;
13. 40-45;
14. 1 млрд.;
15. глобальных;
16. 8-10;
17. 71;
18. 66;
19. Индии;
20. 20;
21. демографические;
22. 11.

### **6.1.16. Контрольная работа № 1 по теме 1.1. Природные ресурсы и население мира**

#### **Вариант 1**

1. К исчерпаемым возобновляемым природным ресурсам относятся:  
1) лесные и рыбные; 2) рыбные и минеральные; 3) лесные и минеральные.
2. Большая часть мировых запасов природного газа сосредоточена:  
1) в Северном полушарии; 2) в Южном полушарии.
3. Эффективная защита почв от эрозии это:  
1) сведение лесов; 2) засыпание оврагов и балок; 3) лесопосадки.
4. Доля лугов и пастбищ в структуре земельного фонда планеты составляет:  
1) 50%; 2) 11%; 3) 26%.
5. Государства, обладающие богатыми лесными ресурсами:  
1) Россия, Канада, США; 2) Россия, Украина, США;  
3) Япония, Египет, Швеция.
6. Главный регион орошаемого земледелия:  
1) Азия; 2) Африка; 3) Европа; 4) Южная Америка.
7. Найдите единственно правильное сочетание:  
1) Польша-Прага; 2) Лихтенштейн- Люксембург;  
3) Ирландия- Загреб; 4) Дания - Копенгаген.
8. Расположите страны по убыванию численности населения(по всему миру)  
Китай (1) , Индия(2) , США (3) , Индонезия(4) , Бразилия(5) , Япония(6) , Россия(7)  
1) 1,2,3,4,5,7,6; 2) 1,2,4,5,3,7,6  
3) 1,2,5,4,3,7,6; 4) 1,2,5,4,3,6,7
9. Укажите более точный ответ. Внутренние миграции:  
1) переселение из села в город

- 2) переезд на осваиваемые земли
- 3) переселение из села в город и переезд на осваиваемые земли
- 4) переселение из района в район
- 5) точного ответа нет
10. Укажите распространенность республиканской формы правления:
  - 1) 1/10 всех стран;
  - 2) 1/6 всех стран;
  - 3) 1/4 всех стран;
  - 4) 5/6 всех стран.
11. Наиболее распространенная из нижеперечисленных религия - это:
  - 1) буддизм;
  - 2) индуизм;
  - 3) конфуцианство;
  - 4) синтоизм.
12. Какая из перечисленных ниже стран имеет самую высокую плотность населения:
  - 1) Бангладеш;
  - 2) Непал;
  - 3) Китай;
  - 4) Индия.
13. Жидкие отходы производства загрязняют в первую очередь:
  - 1) гидросферу;
  - 2) атмосферу;
  - 3) литосферу.
14. «Демографический взрыв» характерен для стран:
  - 1) Восточной Европы;
  - 2) переселенческого типа;
  - 3) Азии, Африки и Латинской Америки;
  - 4) Австралии и Океании
15. Образование многонациональных государств объясняется в первую очередь:
  - 1) историей заселения;
  - 2) экономическим развитием государств;
  - 3) наличием больших городов;
  - 4) внутренними миграциями населения.
16. Средняя плотность населения Земли составляет
  - 1) 12 чел/км<sup>2</sup>;
  - 2) 47 чел/км<sup>2</sup>;
  - 3) 200 чел/км<sup>2</sup>;
  - 4) 1500 чел/км<sup>2</sup>.

Дополните:

17. Соотношение между величиной запасов природных ресурсов и размерами их использования называется ...

18. Наука о происхождении народов, об их характерных особенностях и взаимоотношениях между ними, которые определяются этническими процессами – это ...

19. Часть трудоспособного населения, которая участвует в материальном производстве и непромышленной сфере, называется ...

20. Установите соответствие:

Форма правления	Страны
1) монархия	А. Испания, Япония, Бельгия
2) республика	Б. Марокко, Франция, Непал В. Гвинея, Либерия, Турция

#### Вариант 2

1. К исчерпаемым природным ресурсам относятся:
  - 1) минеральные и водные;
  - 2) водные и лесные;
  - 3) лесные и минеральные.
2. Большая часть мировых запасов нефти сосредоточена:
  - 1) в Северном полушарии;
  - 2) в Южном полушарии.
3. Величина площади пашни в расчете на душу населения в мире:
  - 1) увеличивается;
  - 2) не изменяется;
  - 3) уменьшается.
4. Доля пресной воды в мировых ресурсах:
  - 1) 50%;
  - 2) 10%;
  - 3) 2,5%.
5. Наиболее богаты минеральными ресурсами:
  - 1) Россия; США, Канада; Австралия, Китай;
  - 2) Ближний Восток;
  - 3) Япония, Швейцария, Великобритания;
  - 4) ЮАР, Канада, Непал.
6. Первое место по запасам природного газа занимает:
  - 1) США;
  - 2) Россия;
  - 3) ОАЭ;
  - 4) Ирак.
7. Страна с абсолютной монархией:
  - 1) Малайзия;
  - 2) Камбоджа;
  - 3) Таиланд;
  - 4) Бруней.
8. Укажите столицу государства Африки:
  - 1) Каир;
  - 2) Дакка;
  - 3) Сана;
  - 4) Доха.



9. К новым индустриальным странам НЕ относится:  
 1) Республика Корея; 2) Тайвань; 3) Гонконг;  
 4) Сингапур; 5) все страны относятся.
10. Механическое движение населения – это:  
 1) воспроизводство; 2) миграция;  
 3) транспортные расходы; 4) бюджет.
11. Крупнейшая по численности населения страна Африки:  
 1) Египет; 2) Эфиопия; 3) ЮАР;  
 4) Нигерия; 5) Конго.
12. Процесс деградации почв особенно интенсивно протекает в странах:  
 1) Азии и Африки; 2) Латинской Америки;  
 3) Европы; 4) Северной Америки.
13. На современной политической карте мира насчитывается стран:  
 1) 230; 2) 150; 3) 1000; 4) 2000.
14. Христианство исповедует главным образом население:  
 1) Ближнего и Среднего Востока; 2) Европы, Америки и Австралии;  
 3) Европы и Азии; 4) Западной Европы и Южной Азии;
15. К числу крупнейших городов мира (более 7 млн. жителей) относятся:  
 1) Нью-Йорк; 2) Рим; 3) Сеул; 4) Москва.
16. Найдите ошибку:  
 1) Россия-Москва; 2) Польша-Варшава; 3) Канада – Торонто; 4) США - Нью-Йорк.
- Дополните:
17. Наука о закономерностях воспроизводства населения, изучающая его численность, естественный прирост, возрастной и половой состав – это ...
18. Уменьшение населения страны, района в результате суженного воспроизводства, приводящего к абсолютной убыли, называется ...
19. Система административных, экономических, пропагандистских и других мероприятий, с помощью которых государство воздействует на естественное движение населения – это ...
20. Установите соответствие:

Форма правления	Страны
1) монархия	А. Франция, Италия, Португалия
2) республика	Б. Япония, Греция, Испания В. Великобритания, Нидерланды, Бельгия

### 6.1.17. Контрольная работа № 2 по теме 1.2.Мировое хозяйство

#### Вариант 1

1. Количество «великих горнодобывающих держав»:  
 А. 8; Б. 19; В. 44; Г. 3.
2. Хвойная древесина заготавливается в пределах лесного пояса:  
 А. северного; Б. южного.
3. Ведущими странами и регионами по заготовке древесины в южном лесном поясе являются:  
 А. Бразилия; Б. Бразилия, Юго-Восточная Азия и Австралия;  
 В. Бразилия и Юго-Восточная Азия; Г. США, Россия.
4. Родина кукурузы:  
 А. США; Б. Мексика; В. Европа; Г. Австралия.
5. 2/3 всего сахара в мире производится из:  
 А. меда; Б. сахарной свеклы; В. сахарного тростника.
6. Родина кофе:  
 А. Китай; Б. Индия; В. Африка; Г. Австралия.
7. К числу региональных экономических сообществ относятся:  
 А. ЕЭС, ОПЕК, АСЕАН; Б. НАТО, СЭВ, ЕАС.

- В. ЕЭС, ЛАИ, АСЕАН; Г. СЭВ, ОПЕК, ЕЭС.
8. Основные страны – экспортеры нефти расположены:  
 А. на Ближнем и Среднем Востоке; Б. в России;  
 В. в Азии; Г. в Южной Америке.
9. Первое место по добычи газа занимает:  
 А. США; Б. Алжир; В. Россия; Г. Саудовская Аравия.
10. Страны – экспортеры электроэнергии:  
 А. Россия, Украина, Венгрия; Б. США, Канада, Австралия;  
 В. Мексика, Аргентина, Китай; Г. Япония, Россия, Швейцария.
11. Наиболее высокая доля энергии, производимой на АЭС, характерна для:  
 А. Польши; Б. Франции; В. Норвегии.
12. Лидер по выпуску хлопчатобумажных тканей:  
 А. Китай; Б. Украина; В. США; Г. Непал.
13. Одна из крупнейших автомобильных фирм мира:  
 А. «Боинг»; Б. «Самсунг»; В. «Дженерал моторс»; Г. «Тошиба».
14. Образование мирового рынка – результат:  
 А. Первой мировой войны; Б. распада колониальной системы;  
 В. экспедиций к Северному полюсу; Г. эпохи Великих географических открытий.
15. Больше всего угля в мире добывают:  
 А. Азии; Б. Европе; В. Северной Америке; Г. Южной Америке.
16. Автомобилестроение является отраслью международной специализации:  
 А. в Польше и Бельгии; Б. Италии и Франции;  
 В. Латвии и Норвегии; Г. Нидерландах и Финляндии.

Дополните:

17. Исторически сложившаяся совокупность национальных хозяйств всех стран мира, связанных между собой всемирными экономическими отношениями – это ...
18. Преобразование сельского хозяйства, на основе современной агротехники – это...
19. Процесс перевозки штучных грузов в специальных металлических емкостях называется ...
20. Установите соответствие

Страна	Структура хозяйства
1) Япония	А. аграрная
2) Россия	Б. индустриальная
3) Эфиопия	В. постиндустриальная

#### Вариант 2

1. Доля горнодобывающей промышленности:  
 А. увеличивается; Б. не изменяется; В. уменьшается.
2. Количество различных типов сельского хозяйства:  
 А. 10; Б. 3; В. 100; Г. 50.
3. Родоначальница «зеленой революции»:  
 А. Япония; Б. Мексика; В. США; Г. Россия.
4. Страна северного лесного пояса:  
 А. Китай; Б. Бразилия; В. США; Г. ДР Конго.
5. Основной сбор пшеницы приходится на:  
 А. США, Канаду, Австралию, Россию, Казахстан, Украину;  
 Б. Латинскую Америку;  
 В. Юго-Восточную Азию;  
 Г. Австралию и Новую Зеландию.
6. Кукурузный пояс находится в:  
 А. России; Б. США; В. Канаде; Г. Норвегии.
7. Первое место по добычи нефти занимает:  
 А. Саудовская Аравия; Б. Россия; В. США; Г. Иран.
8. Страны – импортеры электроэнергии:



- А. Швеция и Финляндия;           Б. Германия и Франция;  
В. Швейцария и Австрия;       Г. Польша и Чехия.
6. Крупнейший морской порт в Европе:  
А. Лондон;       Б. Роттердам;       В. Гамбург;       Г. Гавр.
7. Азия — родина:  
А. ислама;       Б. буддизма;       В. индуизма;       Г. всех мировых религий.
8. «Экономическое чудо» в настоящее время наблюдается в:  
А. Японии; Б. Республике Корея и Сингапуре;  
В. Индии и Китае;   Г. Монголии.
9. «Рисовые» ландшафты стран Азии размещены главным образом:  
А. в долинах и дельтах рек;       Б. повсеместно;  
В. на горных склонах;       Г. в приморских районах.
10. Самым низким показателем детской смертности в мире отличается население;  
А. Индии;       Б. Китая;       В. Великобритании;       Г. Японии.
11. Австралия занимает 1-е место в мире по производству:  
А. мяса;       Б. шерсти;       В. пшеницы;       Г. стали.
12. Один из главных факторов, определяющих выгодность географического положения стран Африки:  
А. наличие рек и озер;       Б. выход к морю;  
В. страны-соседи;       Г. наличие уникальных географических объектов.
13. Страны Африки выделяются запасами:  
А. руд;       Б. нефти и газа;       В. лесных ресурсов;       Г. рыбы.
14. США занимают ведущее место в мире:  
А. во всех отраслях хозяйства;       Б. только в промышленности;  
В. в сельскохозяйственном производстве;       Г. только в новейших отраслях хозяйства.
15. Географию промышленности и сельского хозяйства США определяют, как правило:  
А. промышленные и сельскохозяйственные центры;  
Б. промышленные и сельскохозяйственные пояса;  
В. урбанизированные районы;  
Г. ареалы высокой плотности населения.
16. Благоприятные условия для развития сельского хозяйства в США определяются в первую очередь:  
А. географическим положением; Б. обилием рек и озер;  
В. богатыми лесными ресурсами;       Г. хорошими дорогами.
17. Более половины населения Латинской Америки — это:  
А. европейцы;       Б. метисы и мулаты;       В. индейцы;       Г. африканцы.
18. Язык и религия народов Латинской Америки — результат:  
А. истории открытия и освоения материка;       Б. промышленной революции;  
В. урбанизации;       Г. географического положения региона.
19. Страны — экспортеры бананов на мировой рынок:  
А. Перу, Чили, Аргентина;       Б. Коста-Рика, Колумбия, Эквадор.
20. Региональная политика в странах Латинской Америки направлена главным образом на:  
А. дальнейшее развитие прибрежных районов;  
Б. освоение внутренних районов страны;  
В. расширение функций столичных городов;  
Г. ограничение миграции из села в город.
21. Установите соответствие:

Государство	Столица
1. Сальвадор	А. Кито
2. Перу	В. Санто-Доминго
3. Парагвай	С. Манагуа

4. Доминиканская Республика	D. Сан-Сальвадор
5. Боливия	E. Санте-Фе-Богота
6. Эквадор	F. Лима
7. Колумбия	G. Асунсьон
8. Никарагуа	H. Сукре (Ла-Пас)

### Вариант 2

1. Во всех странах Европы господствующая религия:  
A. ислам;            B. христианство;            B. буддизм;            Г. католицизм.
2. Больше всего иностранных рабочих трудится на предприятиях:  
A. Великобритании;            B. Германии;            B. Франции;            Г. Австрии.
3. Ведущая отрасль экономики европейских стран:  
A. растениеводство;            B. банковские услуги;  
B. машиностроение;            Г. лесная промышленность.
4. Лидер химической промышленности:  
A. Германия;            B. Франция;            B. Великобритания;            Г. Бельгия.
5. Рыболовство — отрасль международной специализации:  
A. Исландии;            B. Испании;            B. Франции;            Г. Великобритании.
6. Страна — мировой банкир:  
A. Великобритания;            B. Швейцария;            B. Швеция;            Г. Австрия.
7. Главное богатство стран Юго-Западной Азии:  
A. уголь;            B. дешевая рабочая сила;            B. нефть;            Г. медь.
8. Наиболее экономически развитая страна Азии:  
A. Республика Корея;            B. Саудовская Аравия;            B. Япония;            Г. Китай.
9. «Чайные» ландшафты типичны для:  
A. Японии, Индии, Китая;  
B. Монголии, Республики Корея, Сингапура;  
B. Шри-Ланки, Индонезии, Малайзии.
10. Мировой лидер по количеству больших городов:  
A. Индия;            B. Китай;            B. Япония;            Г. Индонезия.
11. Приокеанические территории Австралии — это:  
A. районы нового освоения;            B. старые промышленные районы;  
B. районы старого освоения;            Г. лучшие пастбища для овец.
12. Самая большая по площади территории страна Африки:  
A. Судан;            B. Заир;            B. ЮАР;            Г. Эфиопия.
13. Столицы Австралии и США — это крупнейшие:  
A. промышленные центры;            B. порты;  
B. административные и культурные центры;            Г. туристические центры.
14. В международном географическом разделении труда страны Африки — экспортеры продукции:  
A. горнодобывающей промышленности и с/х;            B. пищевой промышленности;  
B. лесной и целлюлозно-бумажной промышленности;            Г. машиностроения.
15. Территориальная структура хозяйства США определяется:  
A. транспортными магистралями;            B. городскими агломерациями;  
B. ареалом «пшеничного пояса»;            Г. речными и озерными системами.
16. «Кукурузный пояс» США расположен по отношению к хлопковому:  
A. южнее;            B. севернее;            B. западнее;            Г. восточнее.
17. Этнический состав населения Латинской Америки сложился под воздействием:  
A. европейских переселенцев;            B. индийских племен;  
B. африканцев;            Г. все ответы правильны.
18. География городов Латинской Америки — это результат:  
A. промышленного развития;            B. истории колонизации;  
B. географического положения материка;            Г. развития рыбной промышленности.

19. Наиболее экономически развитые страны региона:

- А. Уругвай, Ямайка, Чили;
- Б. Чили, Перу, Боливия;
- В. Перу, Колумбия, Эквадор;
- Г. Бразилия, Мексика, Аргентина.

20. Страна — экспортер мяса на мировой рынок:

- А. Бразилия;      Б. Аргентина;      В. Чили;      Г. Перу.

21. Установите соответствие:

Государство	Столица
1. Венесуэла	А. Сантьяго
2. Гаити	В. Тегусигальпа
3. Ямайка	С. Каракас
4. Чили	Д. Мехико
5. Аргентина	Е. Монтевидео
6. Мексика	Ф. Порт-о-Пренс
7. Гондурас	Г. Буэнос-Айрес
8. Уругвай	Н. Кингстон

### Итоговый контроль

#### 6.2. Промежуточная аттестация

##### 6.2.1. Примерные задания для проведения дифференцированного зачета

###### Вариант 1

Выберите **один** правильный ответ

1. Территориальными водами государства считается прибрежная зона шириной:  
1) 12 миль;    2) 2 мили;    3) 100 миль;    4) 50 миль.
2. Больше всего «горячих точек» на карте:  
1) Европы;    2) Азии;    3) Северной Америки;    4) Южной Америки.
3. Расширение НАТО на восток – сложная военно-политическая проблема для:  
1) Эстонии и Латвии;    2) России;  
3) Польши и Венгрии;    4) Чехии и Словакии.
4. Высокий уровень экономического и социального развития характеризуется в первую очередь:  
1) численность населения;    2) ВВП на душу населения;  
3) плотность населения;    3) ценами на газеты и журналы.
5. Примером объединения стран в одно государство могут служить:  
1) Югославия;    2) Россия;    3) Чехословакия;    4) Германия.
6. Большая часть мировых запасов нефти сосредоточена:  
1) в Северном полушарии;    2) в Южном полушарии.
7. Величина площади пашни в расчете на душу населения в мире:  
1) увеличивается;    2) не изменяется;    3) уменьшается.
8. Доля пресной воды в мировых ресурсах:  
1) 50%;    2) 10%;    3) 2,5%.
9. Наиболее богаты минеральными ресурсами:  
1) Россия; США, Канада; Австралия, Китай;    2) Ближний Восток;  
3) Япония, Швейцария, Великобритания;    4) ЮАР, Канада, Непал.
10. Первое место по запасам природного газа занимает:  
1) США;    2) Россия;    3) ОАЭ;    4) Ирак.
11. Самая крупная в мире зона концентрации сельского населения:  
1) Гималаи;    2) Русская равнина;  
3) Индо-Гангская низменность;    4) побережье Тихого океана.
12. «Демографический взрыв» характерен для стран:  
1) Восточной Европы;    2) переселенческого типа;

- 3) Азии, Африки и Латинской Америки; 4) Австралии и Океании.
13. Наиболее «голодным» регионом мира является:  
1) Африка; 2) Азия; 3) Океания; 4) Латинская Америка.
14. Механическое движение населения – это:  
1) воспроизводство; 2) миграция;  
3) транспортные расходы; 4) бюджет.
15. Наибольший перевес численности мужского населения над женским имеется в:  
1) Японии и СНГ; 2) Китае и Индии;  
3) Польше и Германии; 4) Канаде и США.
16. Образование многонациональных государств объясняется в первую очередь:  
1) историей заселения; 2) экономическим развитием государств;  
3) наличием больших городов; 4) внутренними миграциями населения.
17. Доля горнодобывающей промышленности:  
1) увеличивается; 2) не изменяется; 3) уменьшается.
18. Количество различных типов сельского хозяйства:  
1) 10; 2) 3; 3) 100; 4) 50.
19. Родоначальница «зеленой революции»:  
1) Япония; 2) Мексика; 3) США; 4) Россия.
20. Страна северного лесного пояса:  
1) Китай; 2) Бразилия; 3) США; 4) ДР Конго.
21. Основной сбор пшеницы приходится на:  
1) США, Канаду, Австралию, Россию, Казахстан, Украину;  
2) Латинскую Америку;  
3) Юго-Восточную Азию;  
4) Австралию и Новую Зеландию.
22. Кукурузный пояс находится в:  
1) России; 2) США; 3) Канаде; 4) Норвегии.
23. Первое место по добычи нефти занимает:  
1) Саудовская Аравия; 2) Россия; 3) США; 4) Иран.
24. Страны – импортеры электроэнергии:  
1) Канада, Австралия, Новая Зеландия; 2) Мексика, Украина, Венгрия;  
3) Россия, Украина, Франция; 4) Италия; Нидерланды; США.
25. Почти 100% электроэнергии вырабатывается на ГЭС в:  
1) России; 2) США; 3) Канаде; 4) Норвегии.
26. Большая часть мирового производства и потребления энергии сосредоточена в странах:  
1) развитых; 2) развивающихся; 3) с переходной экономикой.
27. Расположите электростанции по мере уменьшения их доли в мировом производстве электроэнергии:  
1) ГЭС; 2) АЭС; 3) ТЭС.
28. Основными угледобывающими странами являются страны:  
1) развитые; 2) развивающиеся; 3) с переходной экономикой.
29. Примерами старых промышленных районов в Европе могут быть:  
1) БАМ; 2) Рур, Верхняя Силезия; 3) Альпы; 4) Дельта Волги.
30. По административно-территориальному устройству большинство стран Зарубежной Европы:  
1) федеративные; 2) унитарные.
31. «Лесной цех» Западной Европы – это:  
1) Швеция, Финляндия; 2) Германия, Франция;  
3) Швейцария, Австрия; 4) Польша, Чехия.
32. Крупнейший морской порт в Европе:  
1) Лондон; 2) Роттердам; 3) Гамбург; 4) Гавр.

33. *Мини-государством Европы является:*  
 1) Польша; 2) Чехия; 3) Дания; 4) Монако.
34. *Какое государство исчезло с политической карты Европы:*  
 1) Австрия; 2) Болгария; 3) ГДР; 4) Венгрия.
35. *Азия – родина:*  
 1) ислама; 2) буддизма; 3) индуизма; 4) всех мировых религий.
36. *«Экономическое чудо» в настоящее время наблюдается в:*  
 1) Японии; 2) Республике Корея и Сингапуре;  
 3) Индии и Китае; 4) Монголии.
37. *По форме правления большинство стран Зарубежной Азии:*  
 1) республики; 2) унитарные
38. *Самым низким показателем детской смертности в мире отличается население:*  
 1) Индии; 2) Китая; 3) Великобритании; 4) Японии.
39. *Выхода к морю не имеет:*  
 1) Сингапур; 2) Монголия; 3) Индия; 4) Южная Корея.
40. *«Рисовые» ландшафты стран Азии размещены главным образом:*  
 1) в долинах и дельтах рек; 2) повсеместно;  
 3) на горных склонах; 4) в приморских районах.
41. *Бразилия занимает первое место в мире по производству:*  
 1) кофе;  
 2) кофе и сахарного тростника;  
 3) кофе, сахарного тростника и хлопчатника.
42. *Район наибольшего промышленно-городского загрязнения атмосферы:*  
 1) Поволжье, Урал, Центральная Россия;  
 2) Сибирь, Северный Кавказ, Дальний Восток.
43. *Главный источник загрязнения внутренних вод:*  
 1) промышленные, сельскохозяйственные и бытовые отходы;  
 2) рыбное хозяйство;  
 3) судоходство;  
 4) захоронение высокотоксичных и радиоактивных веществ на дне океана.
44. *Установите соответствие:*

Форма правления	Страны
1) монархия	А. Франция, Италия, Португалия
2) республика	Б. Япония, Греция, Испания В. Великобритания, Нидерланды, Бельгия

45. *Установите соответствие:*

Промышленность	Регионы и страны
1) текстильная	А. США, зарубежная Европа, СНГ, Япония.
2) химическая	Б. Северная Америка, Западная Европа, Восточная и Юго-Восточная Азия, СНГ.
3) машиностроительная	В. Восточная Азия, Южная Азия, СНГ, зарубежная Европа, США.

46. *Установите соответствие:*

Государства	Столицы
1) Великобритания	А. Варшава
2) Польша	Б. Париж
3) Швеция	В. Прага
4) Чехия	Г. Лондон
5) Франция	Д. Стокгольм

47. *Установите соответствие:*

Государства	Столицы
1) Япония	А. Анкара
2) Лаос	Б. Тегеран
3) Турция	В. Токио
4) ОАЭ	Г. Вьентьян



*Дополните:*

48. Политически независимое государство, обладающее самостоятельностью во внутренних и внешних делах, называется ....
49. Соотношение между величиной запасов природных ресурсов и размерами их использования называется ...
50. Наука о закономерностях воспроизводства населения, изучающая его численность, естественный прирост, возрастной и половой состав, называется...

Вариант 2

*Выберите один правильный ответ*

1. К экономически развитым странам относят:
  - 1) Германию и США;
  - 2) Германию, США, Австралию;
  - 3) Германию, США, Австралию, Южную Корею.
2. Примерами «горячих точек» России 90-х могут служить:
  - 1) Государства Балтии;
  - 2) Приднестровье, Таджикистан, Чечня;
  - 3) Дальний Восток;
  - 4) Урал и Поволжье.
3. На современной карте мира насчитывается стран:
  - 1) 230;
  - 2) 150;
  - 3) 1000;
  - 4) 500.
4. Примером разъединения стран и образование на ее месте двух или нескольких государств может служить:
  - 1) Куба;
  - 2) Чехословакия;
  - 3) Германия;
  - 4) Венгрия.
5. Важную роль в урегулировании международных конфликтов играет:
  - 1) ООН;
  - 2) ОПЕК;
  - 3) НАТО;
  - 4) Красный Крест.
6. Большая часть мировых запасов природного газа сосредоточена:
  - 1) в Северном полушарии;
  - 2) в Южном полушарии.
7. Эффективная защита почв от эрозии это:
  - 1) сведение лесов;
  - 2) засыпание оврагов и балок;
  - 3) лесопосадки.
8. Доля лугов и пастбищ в структуре земельного фонда планеты составляет:
  - 1) 50%;
  - 2) 11%;
  - 3) 26%.
9. Государства, обладающие богатыми лесными ресурсами:
  - 1) Россия, Канада, США;
  - 2) Россия, Украина, США;
  - 3) Япония, Египет, Швеция.
10. Главный регион орошаемого земледелия:
  - 1) Азия;
  - 2) Африка;
  - 3) Европа;
  - 4) Южная Америка.
11. Страны, имеющие наибольшую численность населения:
  - 1) Китай, Индия;
  - 2) США, Канада;
  - 3) Индонезия, Непал;
  - 4) Россия, Китай.
12. Урбанизация – это:
  - 1) процесс роста городов;
  - 2) процесс выравнивания уровней экономического развития;
  - 3) миграция населения из села в город;
  - 4) рост численности населения страны или региона;
13. Численность населения Земли составляет более:
  - 1) 6 млрд. чел.;
  - 2) 10 млрд. чел.;
  - 3) 2 млрд. чел.;
  - 4) 25 млрд. чел.
14. Христианство исповедует главным образом население:
  - 1) Ближнего и Среднего Востока;
  - 2) Европы, Америки и Австралии;
  - 3) Европы и Азии;
  - 4) Западной Европы и Южной Азии.
15. Наибольшая плотность сельского населения в:
  - 1) Восточной и Южной Азии;
  - 2) Латинской Америке;
  - 3) Австралии;
  - 4) Западной Европе;
16. К числу крупнейших городов мира (более 7 млн. жителей) относятся:

- 1) Рим;                      2) Нью-Йорк;                      3) Сеул;                      4) Москва.
17. Количество «великих горнодобывающих держав»:  
1) 18;                      2) 19;                      3) 8;                      4) 3.
18. Хвойная древесина заготавливается в пределах лесного пояса:  
1) южного;                      2) северного.
19. Ведущими странами и регионами по заготовке древесины в южном лесном поясе являются:  
1) Бразилия;  
2) Бразилия, Юго-Восточная Азия и Австралия;  
3) Бразилия и Юго-Восточная Азия;  
4) США, Россия.
20. Родина кукурузы:  
1) США;                      2) Мексика;                      3) Европа;                      4) Австралия.
21. 2/3 всего сахара в мире производится из:  
1) меда;                      2) сахарной свеклы;                      3) сахарного тростника.
22. Родина кофе:  
1) Китай;                      2) Индия;                      3) Африка;                      4) Австралия.
23. Основные страны – экспортеры нефти расположены:  
1) на Ближнем и Среднем Востоке;                      2) в России;  
3) в Азии;                      4) в Южной Америке.
24. Первое место по добычи газа занимает:  
1) США;                      2) Алжир;                      3) Россия;                      4) Саудовская Аравия.
25. Страны – экспортеры электроэнергии:  
1) Россия, Украина, Венгрия;                      2) США, Канада, Австралия;  
3) Мексика, Аргентина, Китай;                      4) Япония, Россия, Швейцария.
26. Наиболее высокая доля энергии, производимой на АЭС, характерна для:  
1) Польши;                      2) Франции;                      3) Норвегии.
27. Лидер по выпуску хлопчатобумажных тканей:  
1) Китай;                      2) Украина;                      3) США;                      4) Непал.
28. Одна из крупнейших автомобильных фирм мира:  
1) «Боинг»;                      2) «Самсунг»;                      3) «Дженерал моторс»;                      4) «Тошиба».
29. Во всех странах Европы господствующая религия:  
1) ислам;                      2) христианство;                      3) буддизм;                      4) католицизм.
30. Национальный состав населения Европы характеризуется:  
1) относительной однородностью;                      2) чрезвычайной пестротой.
31. Лидер химической промышленности в Европе:  
1) Германия;                      2) Франция;                      3) Великобритания;                      4) Бельгия.
32. Страна – мировой банкир:  
1) Великобритания;                      2) Швейцария;                      3) Швеция;                      4) Австрия.
33. Мини-государством Европы является:  
1) Бельгия;                      2) Македония;                      3) Чехия;                      4) Люксембург.
34. Какое государство исчезло с политической карты Европы:  
1) Дания;                      2) Словения;                      3) Монако;                      4) Югославия.
35. Главное богатство стран Юго-Западной Азии:  
1) уголь;                      2) дешевая рабочая сила;                      3) нефть;                      4) медь.
36. Наиболее экономически развитая страна Азии:  
1) Республика Корея;                      2) Саудовская Аравия;                      3) Япония;                      4) Китай.
37. «Чайные» ландшафты типичны для:  
1) Японии, Индии, Китая;  
2) Монголии, Республики Корея, Сингапура;  
3) Шри-Ланки, Индонезии, Малайзии.
38. Мировой лидер по количеству больших городов:

- 1) Индия; 2) Китай; 3) Япония; 4) Индонезия.  
 39. Национальный состав населения Зарубежной Азии:

- 1) относительно однороден; 2) исключительно разнообразен.

40. Австралия занимает первое место в мире по производству:

- 1) мяса; 2) шерсти; 3) пшеницы; 4) стали.

41. Россия является страной:

- 1) высокоурбанизированной; 2) среднеурбанизированной;  
 3) слабоурбанизированной;

42. Примерами «горячих точек» России 90-х могут служить:

- 1) Приднестровье, Таджикистан, Чечня; 2) государства Балтии;  
 3) Центральная Россия; 4) Урал

43. Основными продуктами цветной металлургии являются:

- 1) цветные металлы; 2) цветные металлы и их сплавы;  
 3) цветные металлы, их сплавы и минеральные удобрения.

44. Установите соответствие:

Страны	Выпускаемая продукция
1) Япония	А) Продукция агропромышленного комплекса
2) Швейцария	Б) Автомобили
3) Австралия	В) Часы
4) Болгария	Г) Продукция овощеводства

45. Установите соответствие:

Государства	Столицы
1) Греция	А) Берлин
2) Дания	Б) Берн
3) Швейцария	В) Таллинн
4) ФРГ	Г) Копенгаген
5) Эстония	Д) Афины

46. Установите соответствие:

Государства	Столицы
1) Китай	А) Улан-Батор
2) Мьянма	Б) Сана
3) Монголия	В) Манила
4) Йемен	Г) Янгон
5) Филиппины	Д) Пекин

47. Установите соответствие:

Форма правления	Страны
1) монархия	А. Испания, Япония, Бельгия
2) республика	Б. Марокко, Франция, Непал В. Гвинея, Либерия, Турция

*Дополните:*

48. Форма правления, при которой власть в государстве принадлежит одному лицу и передается по наследству, называется...  
 49. Система наблюдений за состоянием окружающей среды, с целью ее контроля, охраны и прогноза называется ...  
 50. Исторически сложившаяся, устойчивая общность людей, объединяемых языком, территорией, хозяйством, культурой, национальным самосознанием, называется ...

#### Критерии оценивания

Наименование объектов контроля и оценки	Основные показатели оценки результата	Оценка
---	---------------------------------------	--------

ПР1 ПР2 ПР3 ПР4 ПР5 ПР6 ПР7 ПР8	точность и скорость выполнения тестового задания, соответствие эталонам ответов	<i>45-50 баллов - 5</i> <i>35-44 – 4</i> <i>25-34 – 3</i> <i>менее 25 - 2</i>
--	---	--

Перечень материалов, оборудования и информационных источников, используемых в промежуточной аттестации:

1. Атлас мира;
2. Политическая карта мира.

Ключ

Вариант 1.

1-1; 2-2; 3-2; 4-2; 5-4; 6-1; 7-3; 8-3; 9-1; 10-2; 11-3; 12-3; 13-1; 14-2; 15-2; 16-1; 17-3; 18-4; 19-2; 20-3; 21-1; 22-2; 23-2; 24-4; 25-4; 26-1; 27-3,1,2; 28-1; 29-2; 30-2; 31-1; 32-2; 33-4; 34-3; 35-4; 36-2; 37-1; 38-4; 39-2; 40-1; 41-3; 42-1; 43-1; 44-1) В, 2) А; 45- 1) В, 2) А, 3) Б; 46-1) Г, 2) А, 3) Д, 4) В, 5) Б; 47- 1) В, 2) Г, 3) А, 4) Д, 5) Б; 48- суверенное государство; 49- ресурсообеспеченность; 50- демография.

Вариант 2.

1-2; 2-2; 3-1; 4-2; 5-1; 6-1; 7- 3; 8-3; 9-1; 10-1; 12-1; 13-1; 14-2; 15-1; 16-2; 17-3; 18-2; 19-2; 20-2; 21-3; 22-3; 23-1; 24-3; 25-1; 26-1; 27-1; 28-3; 29-2; 30-1; 31-1; 32-2; 33-4; 34-4; 35-3; 36-3; 37-1; 38-2; 39-2; 40-2; 41-1; 42-1; 43-2; 44- 1) Б, 2) В; 3) А; 4) Г; 45-1) Д, 2) Г, 3) Б, 4) А, 5) В; 46- 1) Д, 2) Г, 3) А, 4) Б, 5) В; 47- 1) А, 2) Б; 48- монархия; 49- мониторинг; 50- этнос.